

PROBLEMA 2

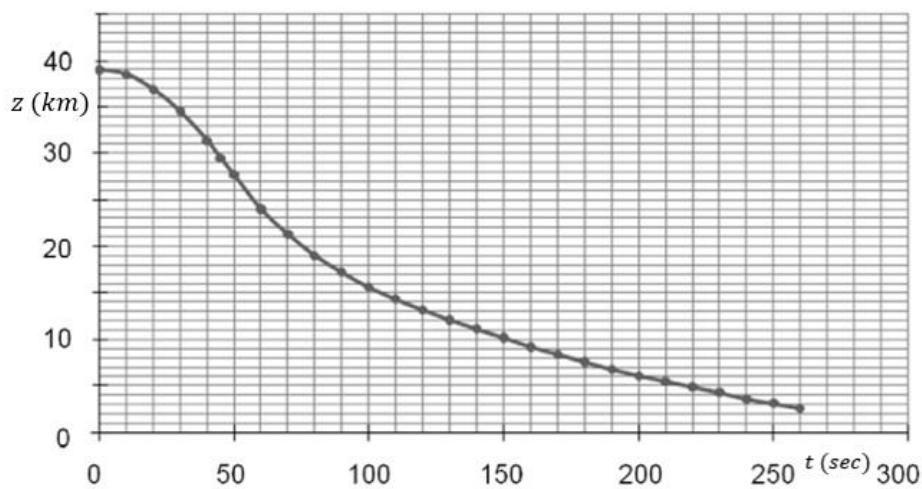
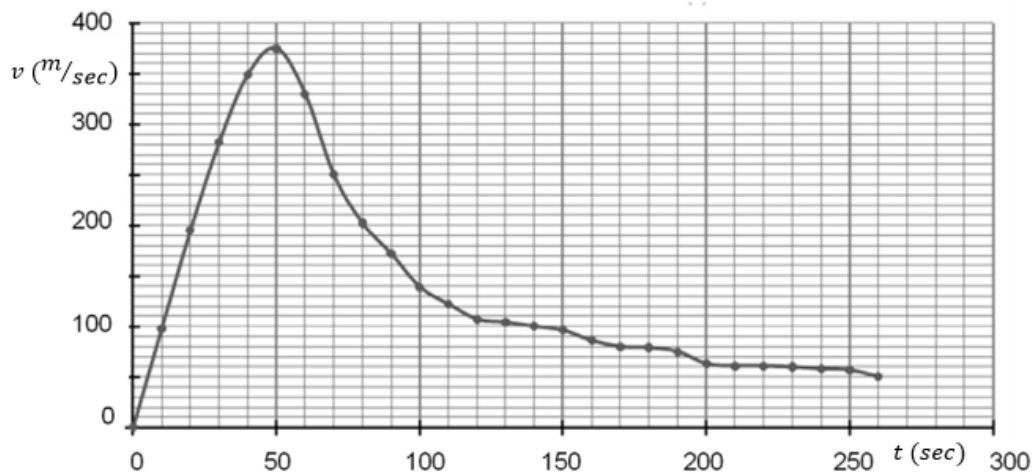
Il 14 ottobre 2012 Felix Baumgartner ha realizzato un lancio storico ottenendo tre record mondiali:

- la maggiore altezza raggiunta da un uomo in una ascesa con un pallone (39045 m);
- il lancio più alto in caduta libera;
- la più alta velocità in caduta libera (1341,9 km/h).

Dopo l'ascesa in un pallone gonfiato a elio, si è lanciato verso la Terra, protetto da una tuta speciale, e ha aperto il suo paracadute dopo 4 minuti e 20 secondi di caduta libera. Il lancio è durato in totale 9 minuti e 3 secondi.

Nelle figure seguenti sono riportati gli andamenti della velocità e della quota di Baumgartner durante il lancio, a partire dall'istante del lancio $t = 0$.





Per realizzare l'ascesa è stato necessario utilizzare un enorme pallone deformabile: ciò per fare in modo che all'aumentare della quota e al diminuire della densità dell'aria il volume del pallone possa aumentare, mantenendo così costante la spinta verso l'alto (spinta di Archimede). Su un giornale veniva riportato *“Per assicurare una velocità d'ascesa sufficiente la spinta verso l'alto era circa doppia di quella necessaria per tenere in equilibrio il sistema. In pratica, aggiungendo alla massa di Baumgartner quella del pallone riempito ad elio, era necessario sollevare una massa di circa 3 tonnellate”*. La massa di Baumgartner e della sua tuta è pari a circa 120 kg.

Fase di ascesa

1. Disegna il diagramma delle forze subito dopo il decollo, trascurando la forza di attrito. Non è necessario che il disegno sia in scala, deve però essere coerente con la situazione fisica.
2. Dopo qualche minuto di ascensione il moto può essere considerato rettilineo uniforme. In questa situazione, calcola approssimativamente il valore della forza di attrito con l'aria.

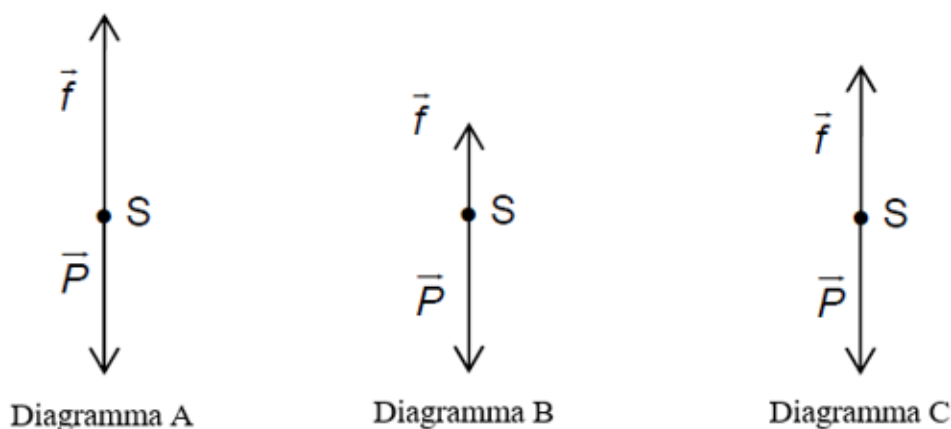
Fase di lancio

Scegli un sistema di riferimento e studia la caduta verticale del sistema S costituito da Baumgartner e dalla tuta. In questa fase, si può ritenere trascurabile l'effetto della spinta di Archimede.

3. Utilizzando i grafici, determina l'accelerazione di S per $t < 20s$ e commenta il risultato ottenuto.
4. Il sistema S ha raggiunto velocità supersoniche durante la caduta? Tieni presente la seguente tabella, che riporta la velocità del suono in aria ad altezze diverse:

Altezza (km)	10	20	30	40
Velocità del suono (m/s)	305	297	301	318

5. Calcola la variazione di energia meccanica ΔE_m tra il momento in cui Baumgartner salta e il momento in cui raggiunge la massima velocità; fornisci la tua interpretazione del risultato.
6. Nella figura seguente vengono riportati i diagrammi delle forze applicate al sistema S durante la fase di lancio. \vec{P} rappresenta la forza peso e \vec{f} la forza di attrito con l'aria. Poni in corrispondenza i diagrammi con i tre istanti $t_1 = 40s$, $t_2 = 50s$, $t_3 = 60s$.



7. Determina a quale altitudine Baumgartner ha aperto il paracadute. Ricordando che il lancio è durato in totale 9 minuti e 3 secondi, calcola la velocità media di discesa dopo l'apertura del paracadute, fino all'arrivo al suolo. Ti appare ragionevole considerare il moto in quest'ultima fase come un moto rettilineo uniforme?
8. Per valutare il rischio di traumi derivanti dall'impatto dell'arrivo al suolo, fornisci una stima dell'altezza da cui Baumgartner sarebbe dovuto saltare, senza paracadute, per giungere al suolo con la stessa velocità.

EXERCICE I - LES TROIS RECORDS DE FÉLIX BAUMGARTNER (6,5 points)

Le 14 octobre 2012, Félix Baumgartner a réalisé un saut historique en inscrivant trois records à son tableau de chasse : celui de la plus haute altitude atteinte par un homme en ballon soit 39 045 m d'altitude, le record du plus haut saut en chute libre, et le record de vitesse en chute libre soit $1341,9 \text{ km}\cdot\text{h}^{-1}$. Après une ascension dans un ballon gonflé à l'hélium, il a sauté vers la Terre, vêtu d'une combinaison spécifique en ouvrant son parachute au bout de 4 min et 20 s. Le saut a duré en totalité 9 min et 3 s.



Ascension du ballon

Il a fallu concevoir un ballon déformable gigantesque, faisant 100 m de hauteur et 130 m de diamètre lors de son extension maximale. En raison de la diminution de la densité de l'air avec l'altitude, le volume du ballon augmente lors de l'ascension de façon à ce que la poussée d'Archimède reste constante.

« Pour assurer une vitesse d'ascension suffisante, le volume initial d'hélium utilisé était de 5100 mètres cubes, c'est-à-dire le double du nécessaire pour la sustentation⁽¹⁾. En pratique, si l'on ajoute à la masse de l'équipage celle du ballon et de l'hélium, c'est environ 3 tonnes qu'il a fallu soulever. »

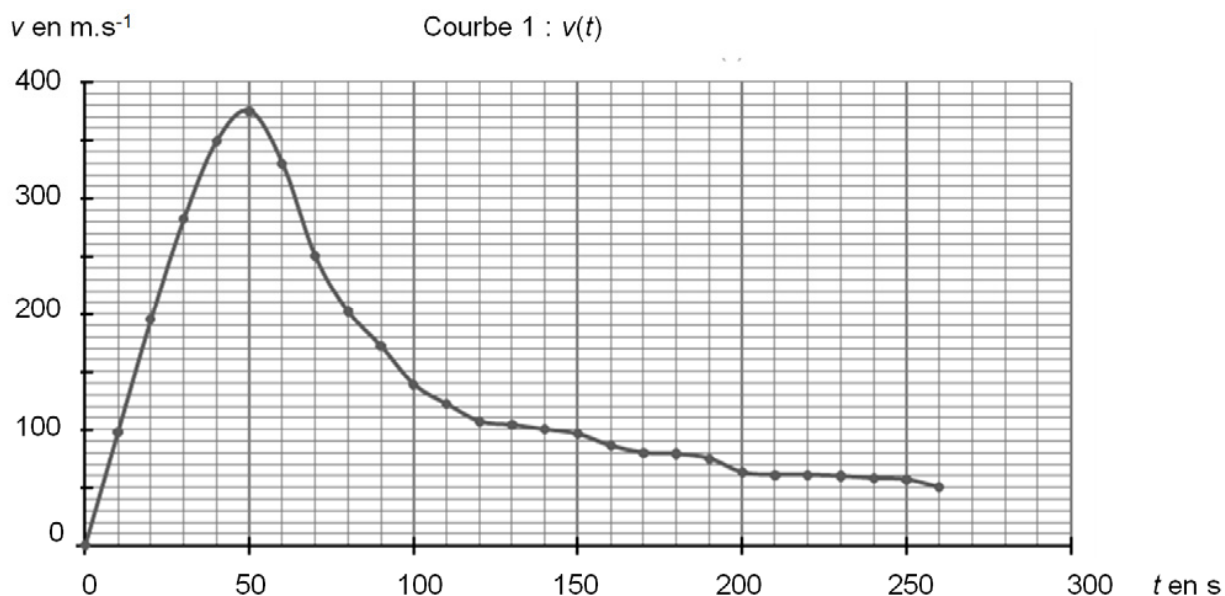
D'après un article de « Pour la Science » janvier 2013

⁽¹⁾ *Sustentation* : état d'un corps maintenu à faible distance au-dessus d'une surface, sans contact avec celle-ci.

Étude du saut de Felix Baumgartner

La masse de Félix Baumgartner et de son équipement est $m = 120 \text{ kg}$.

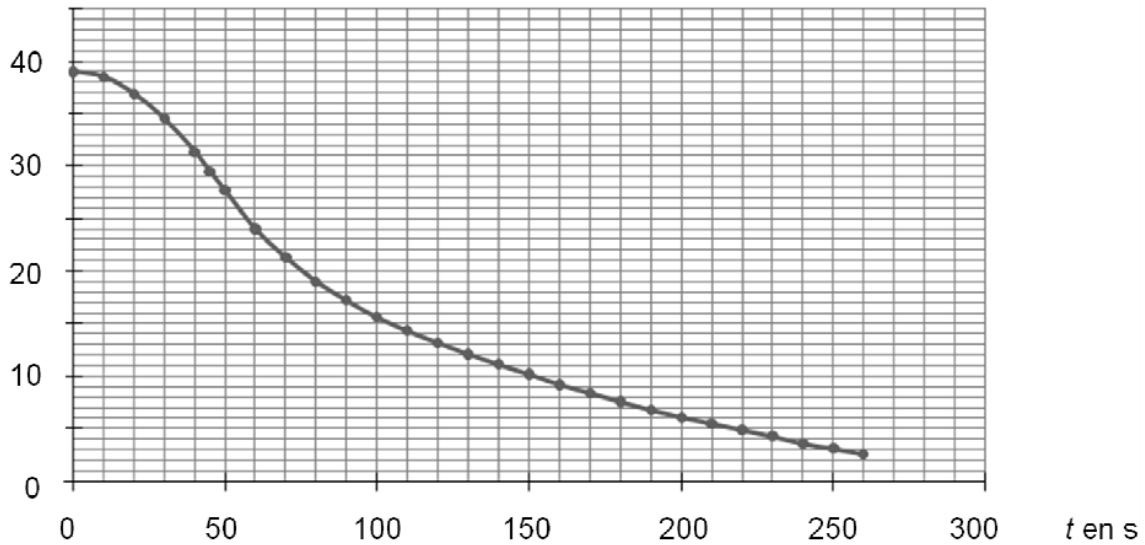
La date $t = 0$ correspond au début du saut de Felix Baumgartner.



Courbe 1 : évolution temporelle de la vitesse v de Félix Baumgartner, dans le référentiel terrestre, jusqu'à l'ouverture du parachute.

z en km

Courbe 2 : z(t)



Courbe 2 : évolution temporelle de l'altitude z par rapport au sol de Félix Baumgartner, jusqu'à l'ouverture du parachute.

D'après www.dailymotion.com/video/x15z8eh_the-full-red-bull-stratos-mission-multi-angle-cameras_sport

Données :

- l'expression de la poussée d'Archimède exercée par l'air sur un corps est la suivante :

$\vec{F}_A = \rho_{air} \cdot V \cdot g \cdot \vec{u}_z$ avec \vec{u}_z vecteur unitaire vertical vers le haut, ρ_{air} ($\text{kg} \cdot \text{m}^{-3}$) masse volumique de l'air dans lequel est plongé le corps, V (m^3) volume du corps placé dans l'air et g intensité du champ de pesanteur ;

- l'intensité du champ de pesanteur est considérée comme constante entre le niveau de la mer et l'altitude de 39 km : $g = 9,8 \text{ m} \cdot \text{s}^{-2}$;
- la stratosphère est la couche de l'atmosphère qui s'étend de 10 à 50 km d'altitude environ ;
- la masse volumique de la partie supérieure de la stratosphère est de l'ordre de $0,015 \text{ kg} \cdot \text{m}^{-3}$, celle de la troposphère au niveau du sol est $1,22 \text{ kg} \cdot \text{m}^{-3}$;
- la célérité du son dans l'air en fonction de l'altitude est donnée dans le tableau ci-dessous :

Altitude (km)	10	20	30	40
Célérité du son ($\text{m} \cdot \text{s}^{-1}$)	305	297	301	318

- la vitesse d'un mobile dans un fluide est dite supersonique si elle est supérieure à la célérité du son dans ce fluide.

Partie 1 : ascension en ballon sonde de Félix Baumgartner

Le volume de l'équipage est négligeable par rapport au volume du ballon.

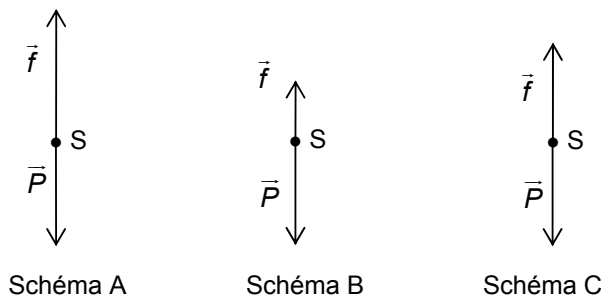
- 1.1. Indiquer la force qui est responsable de l'ascension du ballon.
- 1.2. Faire le bilan des forces qui s'exercent sur le système {ballon ; équipage} juste après le décollage, en négligeant les forces de frottement. Illustrer ce bilan de forces par un schéma, sans souci d'échelle mais cohérent avec la situation physique.
- 1.3. En utilisant les données, les informations du texte et les connaissances acquises, vérifier par un calcul que le ballon peut décoller.
- 1.4. Après quelques minutes d'ascension, le mouvement du système {ballon ; équipage} est considéré comme rectiligne uniforme. Déterminer alors la valeur de la force de frottement de l'air.

Partie 2 : saut de Félix Baumgartner

On étudie maintenant le système {Félix Baumgartner et son équipement} en chute verticale dans le référentiel terrestre considéré comme galiléen. On choisit un axe (Oz) vertical vers le haut dont l'origine O est prise au niveau du sol. Le système étudié, noté S, a une vitesse initiale nulle.

On négligera la poussée d'Archimède.

- 2.1. Utiliser l'étude du saut de Félix Baumgartner (courbe 1) afin de déterminer la valeur de son accélération si $t < 20$ s. Commenter le résultat obtenu.
- 2.2. Lors de son saut, Félix Baumgartner a-t-il atteint une vitesse supersonique ? Justifier.
- 2.3. Calculer la variation d'énergie mécanique ΔE_m entre le moment où Félix Baumgartner saute et le moment où il atteint sa vitesse maximale. Interpréter le résultat.
- 2.4. Les schémas ci-dessous représentent à trois instants les forces appliquées au système S lors du saut : le poids \vec{P} et la force \vec{f} modélisant les frottements. Affecter un schéma à chacune des dates : $t_1 = 40$ s, $t_2 = 50$ s et $t_3 = 60$ s.



- 2.5. Déterminer l'altitude à laquelle Félix Baumgartner ouvre son parachute. En supposant que le système a un mouvement rectiligne et uniforme après l'ouverture du parachute et jusqu'à l'arrivée au sol, déterminer la valeur de la vitesse du système durant cette phase du mouvement. On rappelle que le saut a duré en totalité 9 min et 3 s.
- 2.6. Pour acquérir la même vitesse à l'arrivée au sol, de quel étage d'un immeuble Félix Baumgartner aurait-il dû sauter ? Commenter.